



QUANTOS CABOS DE VASSOURA ENFILEIRADOS CORRESPONDEM AO COMPRIMENTO DA SALA? REPRESENTA, NESSE RETÂNGULO, A SUA ESTIMATIVA.


SENTIDO DO COMPRIMENTO 



---

QUANTOS CABOS DE VASSOURA ENFILEIRADOS CORRESPONDEM AO COMPRIMENTO DA SALA? REPRESENTA, NESSE RETÂNGULO, A SUA ESTIMATIVA.

SENTIDO DO COMPRIMENTO 



---

QUANTOS CABOS DE VASSOURA ENFILEIRADOS CORRESPONDEM AO COMPRIMENTO DA SALA? REPRESENTA, NESSE RETÂNGULO, A SUA ESTIMATIVA.

SENTIDO DO COMPRIMENTO 