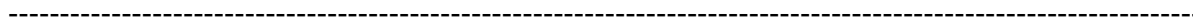
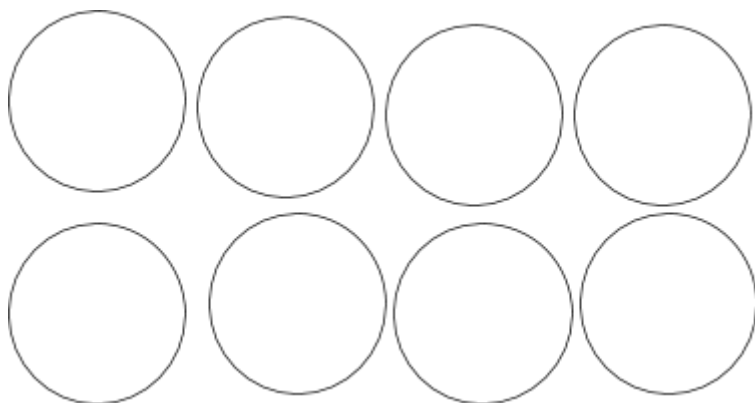


1) CAROLINA PARTICIPOU DO JOGO DE DESENHAR AS MOEDAS. ELA TINHA QUE COLOCAR AS MOEDAS QUE REPRESENTASSEM O VALOR PEDIDO DENTRO DOS CÍRCULOS, SENDO NECESSÁRIO USAR TODOS OS ESPAÇOS. UTILIZE AS MOEDAS FICTÍCIAS PARA RESOLVER A ATIVIDADE.

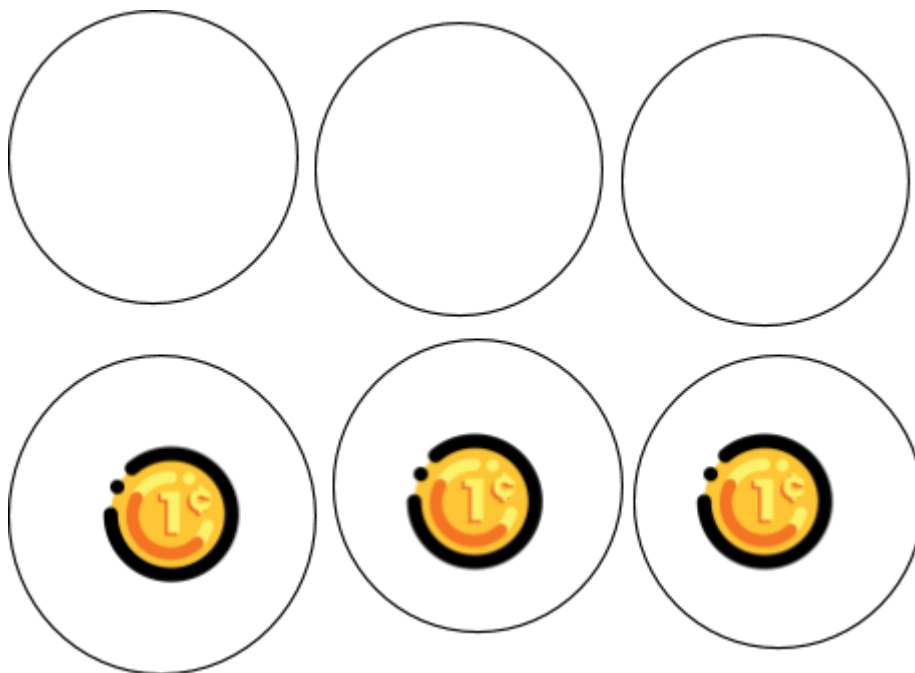
QUAIS AS POSSIBILIDADES DE MOEDAS QUE CAROLINA PODE DESENHAR PARA GANHAR O JOGO?

VALOR: R\$ 0,79.



-

2) JÁ KAUÊ, PARTICIPOU DE OUTRO JOGO. A REGRA ERA PREENCHER AS MOEDAS QUE FALTASSEM PARA ENCONTRAR O VALOR DE R\$ 0,48.



DESAFIO

3)KAUÊ FEZ UM COFRINHO DE COPINHO DE REQUEIJÃO RECICLÁVEL. ELE GUARDA TODAS AS MOEDA SQUE RECEBE PARA COMPRAR FIGURINHAS. KAUÊ GANHOU DO TIO R\$1,25. MAS, O COFRINHO DELE FICOU COM UM PEQUENO DEFEITO E NÃO ENTRA MOEDAS DE R\$0,50 E NEM DE R\$ 1,00.

COMO KAUÊ PODERÁ GUARDAR AS MOEDINHAS QUE GANHOU NO SEU COFRINHO?

RECORTE E COLE AS MOEDAS FICTÍCIAS PARA FORMAR AS POSSIBILIDADES.

