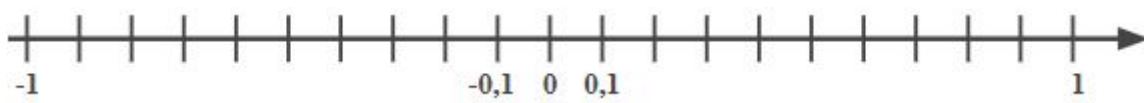


Resolução da Atividade Principal - MAT8_05NUM04

1. A reta numerada com os decimais.

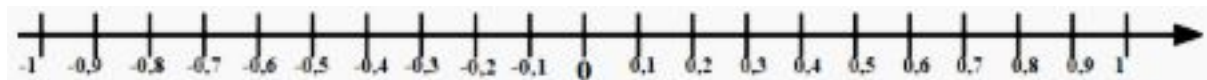
Ainda em dupla, represente os decimais exatos seguindo o padrão da reta abaixo.



Descreva o procedimento realizado para colocar esses números na reta.

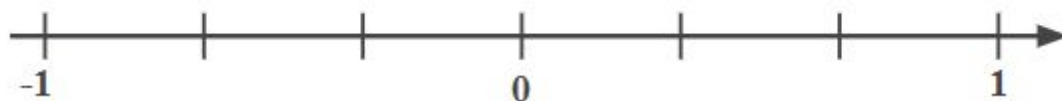
Resolução:

Ainda em dupla, representem os decimais exatos seguindo o padrão da reta abaixo.



2. Posicione os números abaixo em suas respectivas posições. Caso necessário, transforme as frações em decimais para melhor localizá-las na reta.

$$-\frac{1}{3} \quad 0,\bar{3} \quad \frac{2}{3} \quad e \quad -0,666 \dots$$



Qual estratégia você utilizou para encontrar o lugar de cada valor na reta?

Resolução:

