



ATIVIDADES COMPLEMENTARES MAT2_08NUM05

1) OBSERVE A QUANTIDADE DE TAMPINHAS QUE JOÃO COLECIONOU.



QUANTAS TAMPINHAS JOÃO PRECISA ACRESCENTAR A ESTAS PARA QUE ELE FIQUE COM 54 TAMPINHAS?

2) OBSERVE A IMAGEM ABAIXO.



A) ACRESCENTE 28 PALITOS À QUANTIDADE REPRESENTADA ACIMA.

B) QUANTOS PALITOS FICARAM APÓS O ACRÉSCIMO?

C) AGORA ACRESCENTE MAIS 13 PALITOS E RESPONDA:

- QUANTOS PALITOS HÁ APÓS OS DOIS ACRÉSCIMOS?




- QUANTOS PALITOS FORAM ACRESCENTADOS AO TODO A QUANTIDADE INICIAL?

3) **Desafio:** CADA CÍRCULO ABAIXO TEM UM VALOR. VEJA:



A) QUAL A QUANTIDADE REPRESENTADA?

B) QUANTOS CÍRCULOS SERÃO NECESSÁRIOS ACRESCENTAR EM CADA ORDEM PARA QUE FIQUE REPRESENTADO O NUMERAL 465. PREENCHA A TABELA ABAIXO COM A QUANTIDADE DE CÍRCULOS.

C) QUAL FOI O NUMERAL DE TRÊS ORDENS ACRESCENTADO A QUANTIDADE INICIAL PARA RESULTAR O NUMERAL 465?