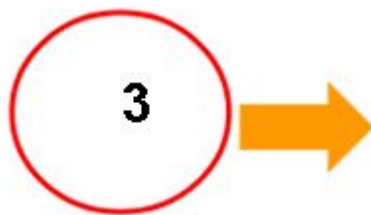



Resolução da Atividade Aquecimento - MAT2_05NUM04

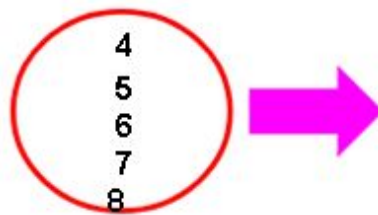

OS ALUNOS DO 2º ANO A, DA PROFESSORA LOURDES, PRECISAM DISTRIBUIR AS QUANTIDADES DOS OBJETOS INDICADOS ABAIXO. VAMOS AJUDÁ-LOS E DEPOIS ESCREVER COMO FICARÁ A ADIÇÃO?

A- 6 LÁPIS



$$6 = \underline{3} + \underline{3}$$

B- 13 LIVROS



$$\begin{aligned} 13 &= 9 + 4 \\ 13 &= 4 + 9 \\ 13 &= 8 + 5 \\ 13 &= 5 + 8 \\ 13 &= 7 + 6 \\ 13 &= 6 + 7 \end{aligned}$$

Outras possibilidades irão aparecer. Explore-as com seus alunos.