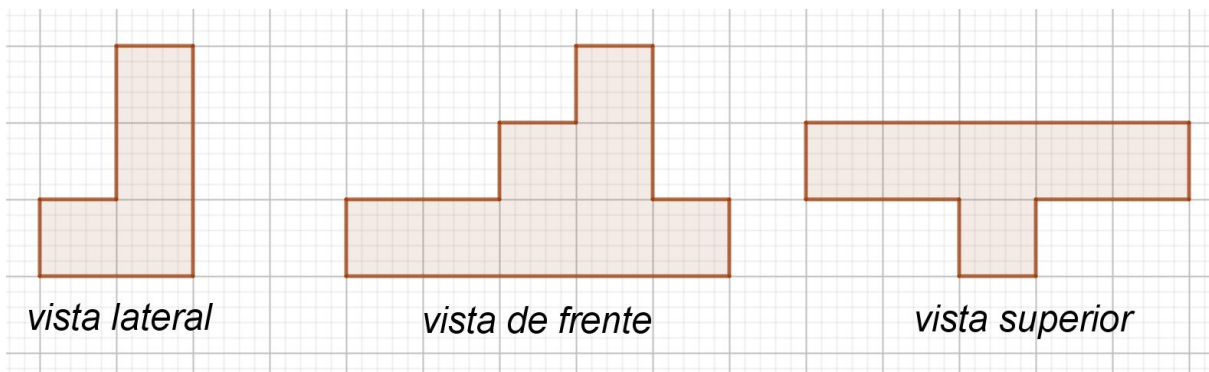
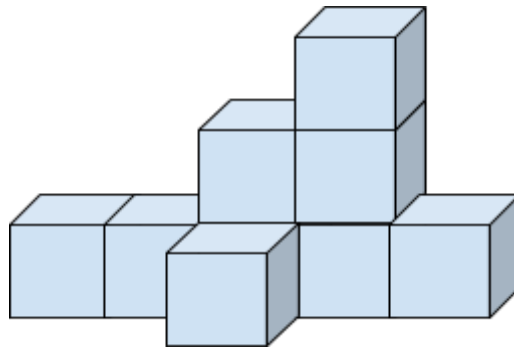
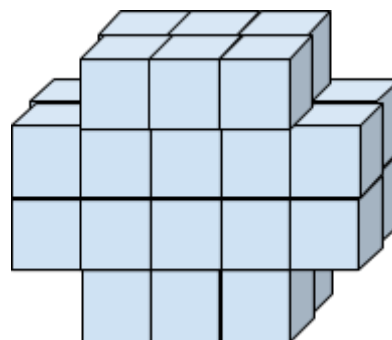
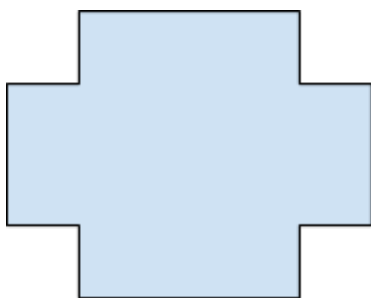


Resolução Atividade Complementar - MAT9_17GEO01

- 1) Na figura abaixo está a representação de um sólido geométrico que pode ser observado sob diferentes vistas. Represente a vista lateral, vista de frente e vista superior deste objeto.



- 2) Represente um sólido geométrico que tenha a vista frontal abaixo:



- 3) [Desafio] Mariana fez esses recortes em uma cartolina, e agora precisa montar sólidos geométricos. Ajude Mariana a construir sólidos que utilizem todos os recortes abaixo sem deixar sobrar nenhum deles.

