


Paulo observa uma sequência de quadrados colocados em ordem do menor para o maior, como mostra a figura ao lado. Ele observou uma regularidade entre o total de ladrilhos do quadrado e o comprimento do lado.




Que regularidade ele observou?

Paulo imaginou um quadrado composto por 225 ladrilhos, neste caso, qual é o comprimento do lado desse quadrado?

---

Paulo observa uma sequência de quadrados colocados em ordem do menor para o maior, como mostra a figura ao lado. Ele observou uma regularidade entre o total de ladrilhos do quadrado e o comprimento do lado.



Que regularidade ele observou?

Paulo imaginou um quadrado composto por 225 ladrilhos, neste caso, qual é o comprimento do lado desse quadrado?

---

Paulo observa uma sequência de quadrados colocados em ordem do menor para o maior, como mostra a figura ao lado. Ele observou uma regularidade entre o total de ladrilhos do quadrado e o comprimento do lado.




Que regularidade ele observou?

Paulo imaginou um quadrado composto por 225 ladrilhos, neste caso, qual é o comprimento do lado desse quadrado?

---

Paulo observa uma sequência de quadrados colocados em ordem do menor para o maior, como mostra a figura ao lado. Ele observou uma regularidade entre o total de ladrilhos do quadrado e o comprimento do lado.



Que regularidade ele observou?

Paulo imaginou um quadrado composto por 225 ladrilhos, neste caso, qual é o comprimento do lado desse quadrado?

---

