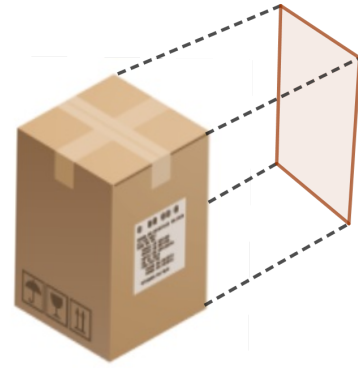


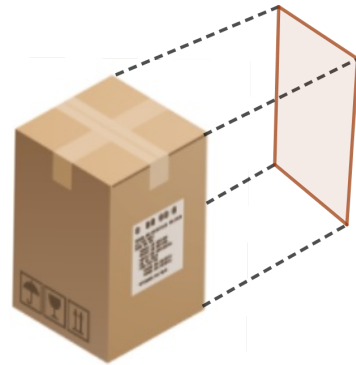
Projete a caixa na parede de forma que seja possível projetar a vista lateral. Calcule a medida da face lateral desta caixa a partir de sua vista projetada. Converse com seus colegas sobre como poderão realizar essas medições.



Antes de realizar atividade certifique-se de alguns pontos importantes:

- A vista é do mesmo tamanho que o objeto?
- Como podemos garantir que a vista projetada tem as mesmas dimensões que o objeto?
- É possível calcular a área dessa figura geométrica? Como calcular?

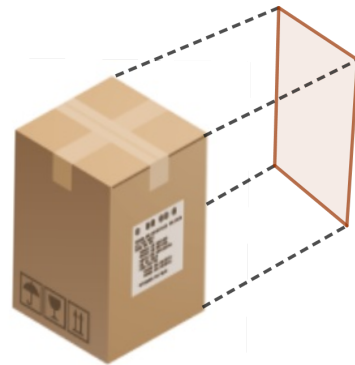
Projete a caixa na parede de forma que seja possível projetar a vista lateral. Calcule a medida da face lateral desta caixa a partir de sua vista projetada. Converse com seus colegas sobre como poderão realizar essas medições.



Antes de realizar atividade certifique-se de alguns pontos importantes:

- A vista é do mesmo tamanho que o objeto?
- Como podemos garantir que a vista projetada tem as mesmas dimensões que o objeto?
- É possível calcular a área dessa figura geométrica? Como calcular?

Projete a caixa na parede de forma que seja possível projetar a vista lateral. Calcule a medida da face lateral desta caixa a partir de sua vista projetada. Converse com seus colegas sobre como poderão realizar essas medições.



Antes de realizar atividade certifique-se de alguns pontos importantes:

- A vista é do mesmo tamanho que o objeto?
 - Como podemos garantir que a vista projetada tem as mesmas dimensões que o objeto?
 - É possível calcular a área dessa figura geométrica? Como calcular?
-