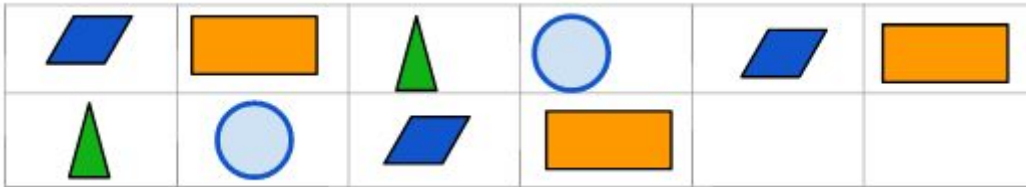
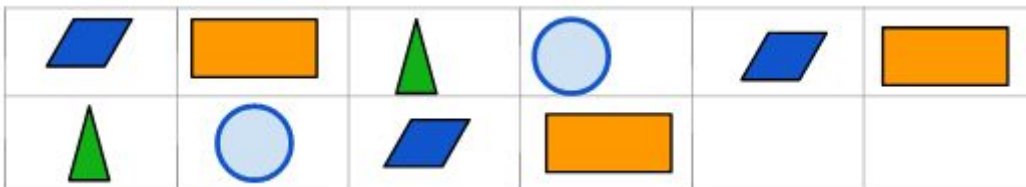


Observe a sequência abaixo.



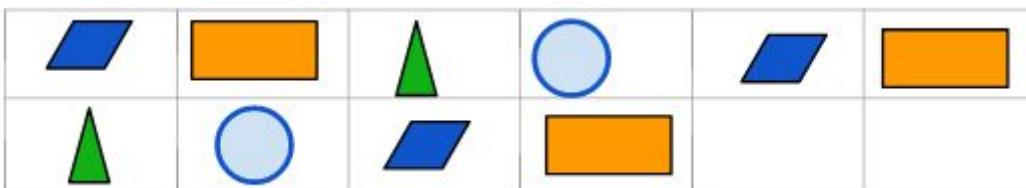
- a) Desenhe as próximas figuras no quadro.
- b) Qual será o 15º elemento desta sequência? _____
- c) Posso afirmar que na 40ª posição, a figura apresentada é o retângulo?
-

Observe a sequência abaixo.



- a) Desenhe as próximas figuras no quadro.
- b) Qual será o 15º elemento desta sequência? _____
- c) Posso afirmar que na 40ª posição, a figura apresentada é o retângulo?
-

Observe a sequência abaixo.



- a) Desenhe as próximas figuras no quadro.
- b) Qual será o 15º elemento desta sequência? _____
- c) Posso afirmar que na 40ª posição, a figura apresentada é o retângulo?

