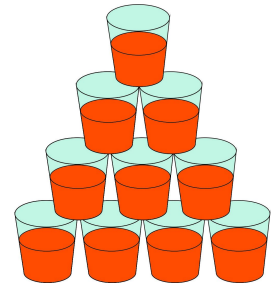
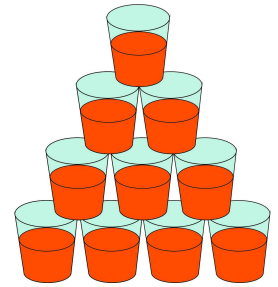


MARIA QUER MONTAR UMA TORRE DE COPOS, CADA COPO COM 200ML DE LÍQUIDO COLORIDO. A TORRE SERÁ CONSTRUÍDA COM DEZ COPOS. QUANTOS LITROS DE LÍQUIDO ELA VAI PRECISAR PREPARAR PARA ENCHER TODOS OS COPOS?



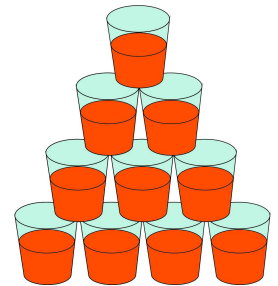
---

MARIA QUER MONTAR UMA TORRE DE COPOS, CADA COPO COM 200ML DE LÍQUIDO COLORIDO. A TORRE SERÁ CONSTRUÍDA COM DEZ COPOS. QUANTOS LITROS DE LÍQUIDO ELA VAI PRECISAR PREPARAR PARA ENCHER TODOS OS COPOS?



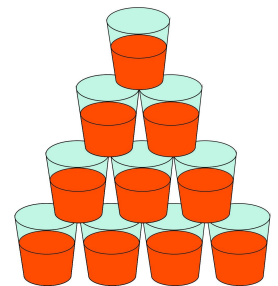
---

MARIA QUER MONTAR UMA TORRE DE COPOS, CADA COPO COM 200ML DE LÍQUIDO COLORIDO. A TORRE SERÁ CONSTRUÍDA COM DEZ COPOS. QUANTOS LITROS DE LÍQUIDO ELA VAI PRECISAR PREPARAR PARA ENCHER TODOS OS COPOS?



---

MARIA QUER MONTAR UMA TORRE DE COPOS, CADA COPO COM 200ML DE LÍQUIDO COLORIDO. A TORRE SERÁ CONSTRUÍDA COM DEZ COPOS. QUANTOS LITROS DE LÍQUIDO ELA VAI PRECISAR PREPARAR PARA ENCHER TODOS OS COPOS?



---

MARIA QUER MONTAR UMA TORRE DE COPOS, CADA COPO COM 200ML DE LÍQUIDO COLORIDO. A TORRE SERÁ CONSTRUÍDA COM DEZ COPOS. QUANTOS LITROS DE LÍQUIDO ELA VAI PRECISAR PREPARAR PARA ENCHER TODOS OS COPOS?

