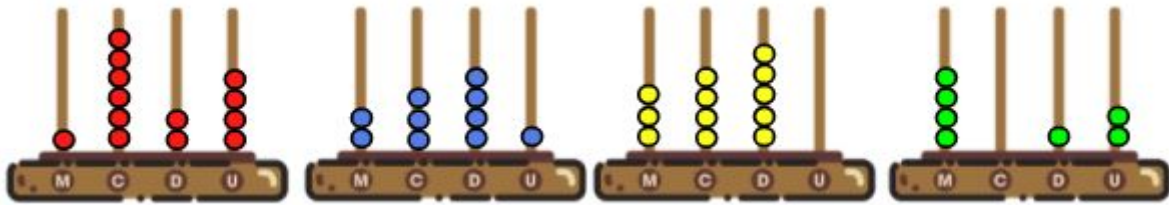


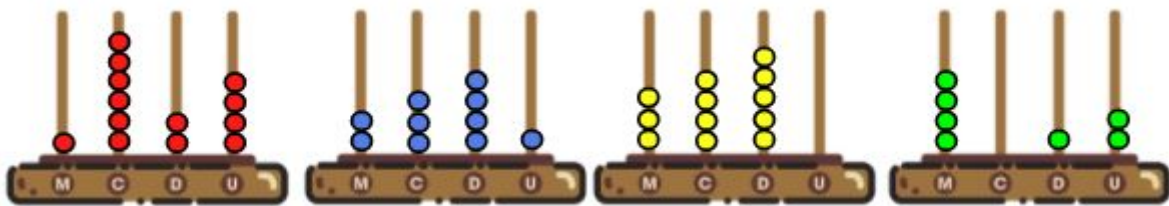




OBSERVE AS BOLINHAS QUE REPRESENTAM O ALGARISMO QUATRO NOS ÁBACOS ABAIXO E FAÇA A CORRESPONDÊNCIA AO SEU VALOR APRESENTADO NOS RETÂNGULOS.



 <p>OU 10 + 10 + 10 + 10</p>	$100 + 100 + 100 + 100$	 <p>OU 1 000 + 1 000 + 1 000 + 1 000</p>	$1 + 1 + 1 + 1$
---	-------------------------	--	-----------------

OBSERVE AS BOLINHAS QUE REPRESENTAM O ALGARISMO QUATRO NOS ÁBACOS ABAIXO E FAÇA A CORRESPONDÊNCIA AO SEU VALOR APRESENTADO NOS RETÂNGULOS.



 <p>OU 10 + 10 + 10 + 10</p>	$100 + 100 + 100 + 100$	 <p>OU 1 000 + 1 000 + 1 000 + 1 000</p>	$1 + 1 + 1 + 1$
---	-------------------------	--	-----------------