









Atividades complementares MAT1_18PES06

1. SABEMOS QUE CAROLINA TEM QUE COMPRAR 12 FRUTAS. ELA ORGANIZOU O QUE IRÁ COMPRAR EM UMA TABELA. LEIA A TABELA E AJUDE CAROLINA A PENSAR NAS QUANTIDADES DE FRUTA QUE AINDA NÃO DECIDIU.

FRUTA	QUANTIDADE
LARANJAS 	
MAÇÃS 	5     
BANANAS 	
TOTAL	12

2. MARIA VAI ORGANIZAR A LISTA DE MATERIAIS DELA E DE SEUS AMIGOS: CAROL, BRUNO E MARIANA. PARA IR ÀS COMPRAS ELA PRECISARÁ DE SUA AJUDA. AJUDE-A COMPLETAR A TABELA SABENDO QUE ESSA É A LISTA DE APENAS UM DELES E AS OUTRAS SÃO TODAS IGUAIS.

MATERIAL	QUANTIDADE



Atividades complementares MAT1_18PES06

3. DESAFIO

MONTE UMA TABELA PARA AJUDAR BRUNO A ORGANIZAR A SUA FESTA DO PIJAMA. SERÃO CONVIDADOS: MARIA, MARIANA, CAROLINA E CAUÊ.

PENSE QUE CADA PESSOA CONSOME 2 SANDUÍCHES, 1 REFRIGERANTE E 1 DOCE. APENAS MARIANA NÃO TOMA REFRIGERANTE E O DONO DA FESTA ESTÁ EVITANDO DOCES.