
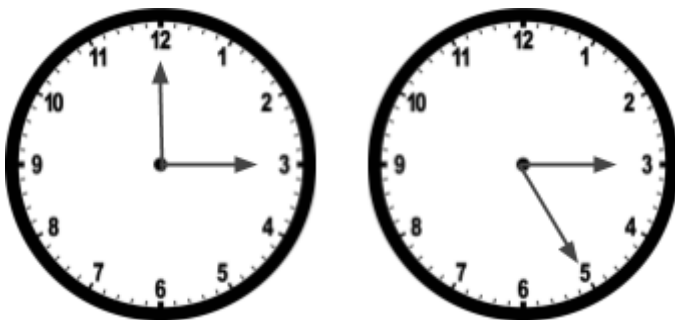


1 - Complete os ângulos para que fiquem com as medidas corretas:

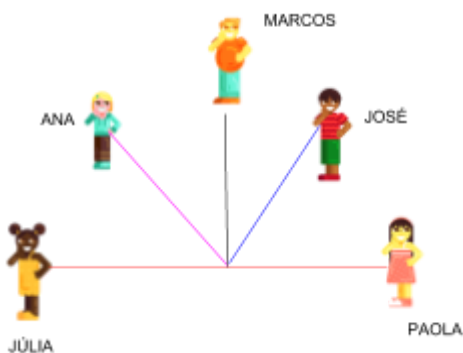


2 - Observe os relógios abaixo:



- Que horas marca o primeiro relógio? _____
- Que ângulo temos no primeiro relógio? _____
- No segundo relógio, o ângulo mudou. O que aconteceu no segundo relógio para mudar o ângulo? _____
- Que horas marca o segundo relógio? Qual tipo de ângulo ele apresenta?

3 - [Desafio] Observe o desenho abaixo:



Que tipo de ângulo se forma, considerando as fitas de:

- Paola e José? _____
- Paola e Marcos? _____
- Paola e Ana? _____
- Paola e Júlia? _____