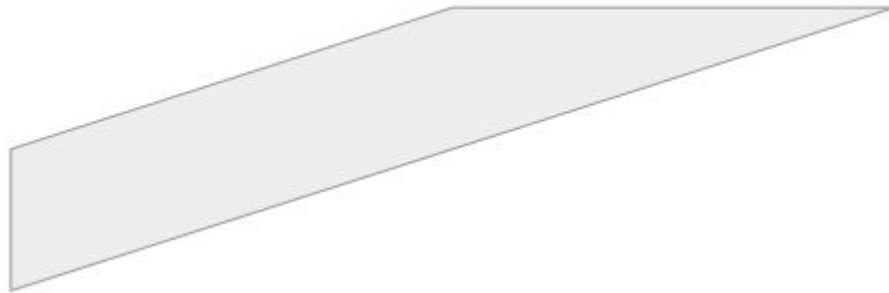


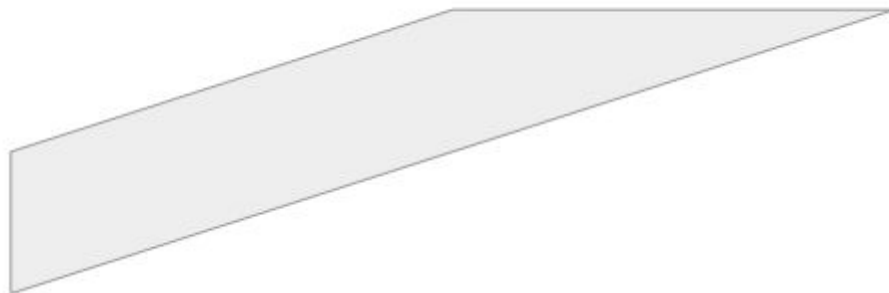
Observe a figura formada com vários segmentos de reta. Quando estes segmentos são ligados vários ângulos são formados.



Classifique os ângulos internos da figura em agudos, obtusos ou retos.

---

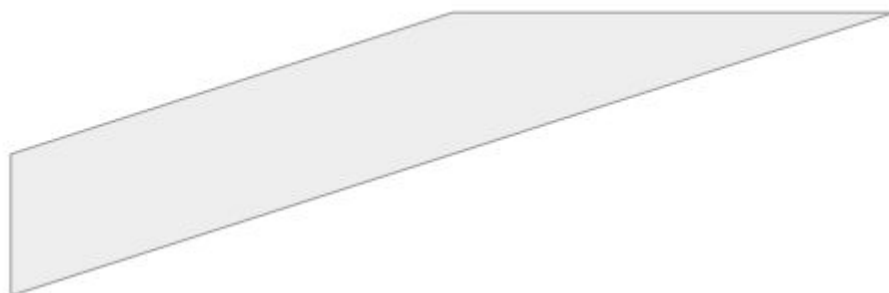
Observe a figura formada com vários segmentos de reta. Quando estes segmentos são ligados vários ângulos são formados.



Classifique os ângulos internos da figura em agudos, obtusos ou retos.

---

Observe a figura formada com vários segmentos de reta. Quando estes segmentos são ligados vários ângulos são formados.



Classifique os ângulos internos da figura em agudos, obtusos ou retos.

---