


Resolução das atividades complementares - MAT2_15GEO06

1) UTILIZANDO AS PEÇAS DO TANGRAM, FORME UM QUADRADO COM DOIS TRIÂNGULOS. APÓS FORMAR, REGISTRAR NA FOLHA, O DESENHO FORMADO. POSSÍVEL SOLUÇÃO:



Ou

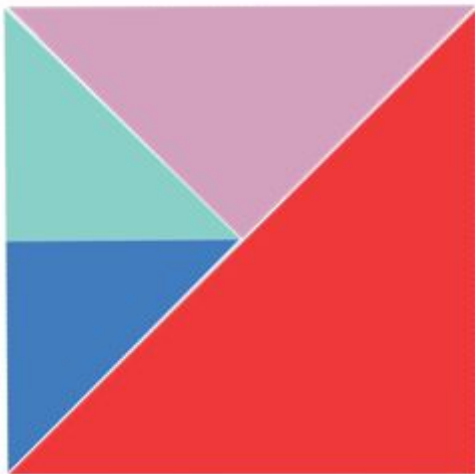


2) UTILIZANDO AS PEÇAS DO TANGRAM, FORME UM QUADRADO COM TRÊS PEÇAS. APÓS FORMAR, REGISTRAR NA FOLHA O DESENHO FORMADO.




3) DESAFIO:

UTILIZANDO AS PEÇAS DO TANGRAM, FORME UM QUADRADO COM QUATRO PEÇAS. APÓS FORMAR, REGISTRAR NA FOLHA O DESENHO FORMADO.



OU



ou

