


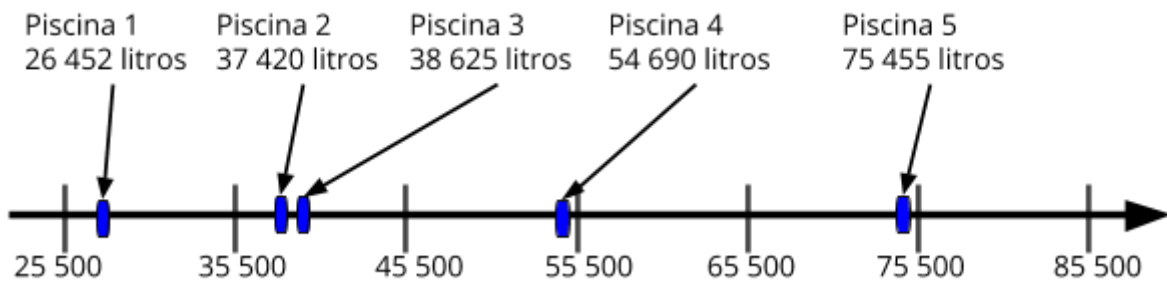
Atividades Complementares _ MAT4_03NUM05

1. Um construtor fez um registro da quantidade de água necessária para encher as últimas 5 piscinas construídas por ele. Qual das retas representa esses valores corretamente? Explique sua escolha.

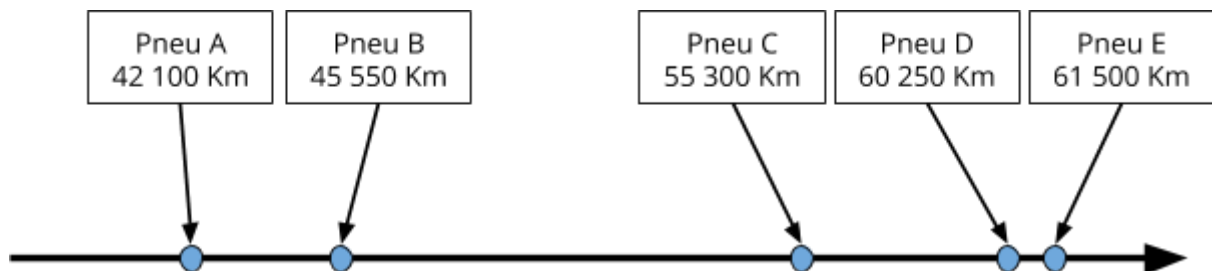
Reta 1



Reta 2



2. Uma indústria de pneu lançou um catálogo, para os clientes, com a vida útil dos pneus que fabrica. Determine o intervalo e coloque os pontos na reta que demonstra esses dados.



3. Desafio

Um sapo-cururu pode, ao longo de um ano, botar 23 400 ovos. A reta numerada abaixo, representou a possível quantidade de ovos que um sapo pode botar, do 1º ao 4º ano de idade. Determine a quantidade de ovos para cada marca na reta, os pontos e o intervalo entre eles.

