
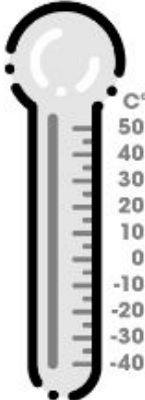


Atividade Principal - MAT5_08NUM05

Atividade 1




Essa semana fez muito frio! Agora o termômetro está marcando 8 graus. Para sábado, a previsão é que a temperatura aumente 2,8 graus. E agora? Qual será a temperatura no sábado?




The thermometer shows a scale from -40 to 50 degrees Celsius. The liquid level is at the 8-degree mark.

Atividade 2



Com este aumento na temperatura, o quão próxima a temperatura estará de 12 graus?

Atividade 3



A temperatura aumenta no fim de semana e vai continuar esquentando na segunda-feira! Comparando com o sábado, a previsão é de que a temperatura suba 5,4 graus! Sendo assim, qual será a temperatura prevista para segunda-feira?