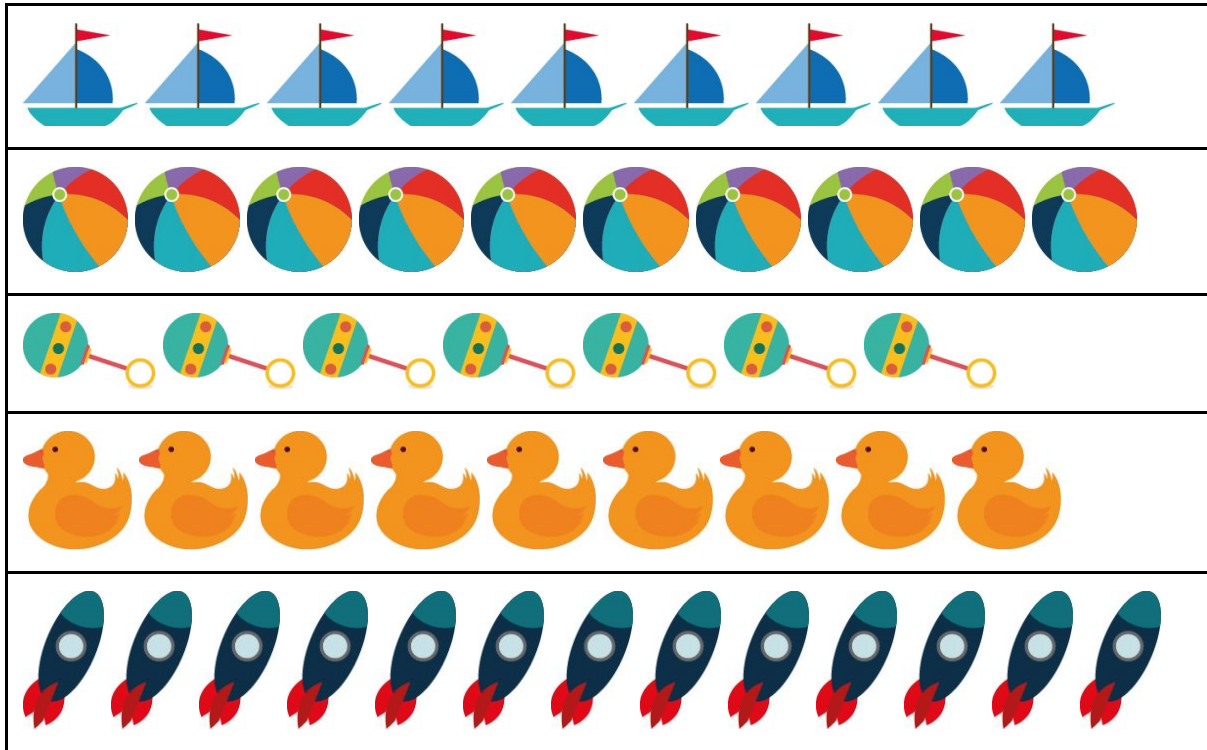


Resolução da atividade complementar - MAT1_01NUM05

1) **Circule apenas as coleções que possuem a mesma quantidade:**



Nessa atividade as crianças deverão circular as coleções que possuem a mesma quantidade, ou seja, a coleção de barquinhos e patinhos pois possuem 9 cada um.







2) **Registre a sua quantidade de lápis de cor, após o registro, compare com o colega ao seu lado e veja quem possui mais lápis de cor:**

Nessa atividade a criança deverá registrar a quantidade de lápis de cor que possui; esse registro poderá ser feito por número, escrita, desenho ou risquinhos que indiquem a quantidade. A quantidade de lápis de cor de cada criança poderá ser diferente. Após o registro, a criança irá comparar a sua quantidade com o amigo ao lado (ou se preferir, defina com quem cada um irá comparar). Após a comparação eles deverão definir quem possui mais.

Aproveite a oportunidade e questione: Por que ele tem mais? Ou menos? Como você sabe?

[Desafio]

Fábio possui uma coleção de piões maior que a do Ronaldo e menor que a do João. Qual é a quantidade de piões da coleção de Fábio?

 Ronaldo	
 João	
 Fábio	

Nessa atividade a criança deverá descobrir a quantidade de piões que Fábio possui. Nesse caso será 19, pois Ronaldo possui 18 e João possui 20. Como informado no enunciado, a quantidade de Fábio é maior que do Ronaldo e menor que do João, então a criança deverá descobrir que a resposta está entre as duas quantidades de piões, 18 e 20, que é 19.