





1) OBSERVE A POSIÇÃO DOS CARRINHOS NA CORRIDA:

LARGADA	1	2	3	4	5	6	7	8	9	CHEGADA
										
										
										

AGORA, RESPONDA:

- A) QUANTAS CASAS O CARRO VERMELHO PRECISA ANDAR PARA ALCANÇAR O CARRO VERDE?
- B) QUANTAS CASAS O CARRO AZUL ESTÁ ATRÁS DO CARRO VERDE?
- C) QUANTAS CASAS O CARRO VERMELHO PRECISA ANDAR PARA PASSAR O CARRO AZUL?
- D) QUANTAS CASAS CADA CARRO TEM QUE ANDAR PARA VENCER A CORRIDA?


2)



QUEM É MAIS PESADA? MARIA OU DUDA.

EXPLIQUE COMO VOCÊ DESCOBRIU.

---




QUEM É MAIS PESADA? MARIA OU DUDA.

EXPLIQUE COMO VOCÊ DESCOBRIU.

---

3)




AS CARTAS DE MARCELA E LUIZ SOMAM 19.

QUE QUANTIDADE DEVE APARECER NA CARTA DE MARCELA?

MOSTRE COMO FARÁ PARA DESCOBRIR.

---

3)



AS CARTAS DE MARCELA E LUIZ SOMAM 19.

QUE QUANTIDADE DEVE APARECER NA CARTA DE MARCELA?

MOSTRE COMO FARÁ PARA DESCOBRIR.

---