
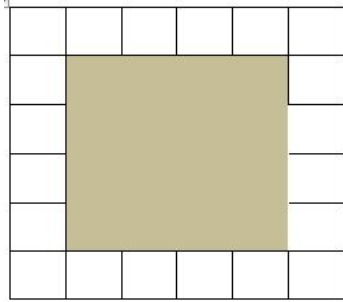

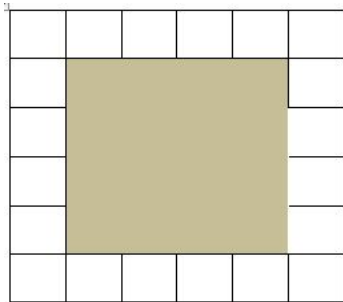


Guilherme precisa comprar placas de madeira para colocar ao redor de um canil que pretende construir em seu quintal. Quantos metros de madeira ele deve comprar, considerando que cada lado do quadrado tem 1,5 m?




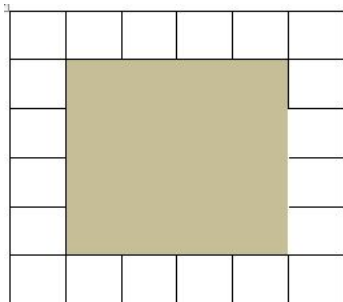
---

Guilherme precisa comprar placas de madeira para colocar ao redor de um canil que pretende construir em seu quintal. Quantos metros de madeira ele deve comprar, considerando que cada lado do quadrado tem 1,5 m?



---

Guilherme precisa comprar placas de madeira para colocar ao redor de um canil que pretende construir em seu quintal. Quantos metros de madeira ele deve comprar, considerando que cada lado do quadrado tem 1,5 m?



---

Guilherme precisa comprar placas de madeira para colocar ao redor de um canil que pretende construir em seu quintal. Quantos metros de madeira ele deve comprar, considerando que cada lado do quadrado tem 1,5 m?

