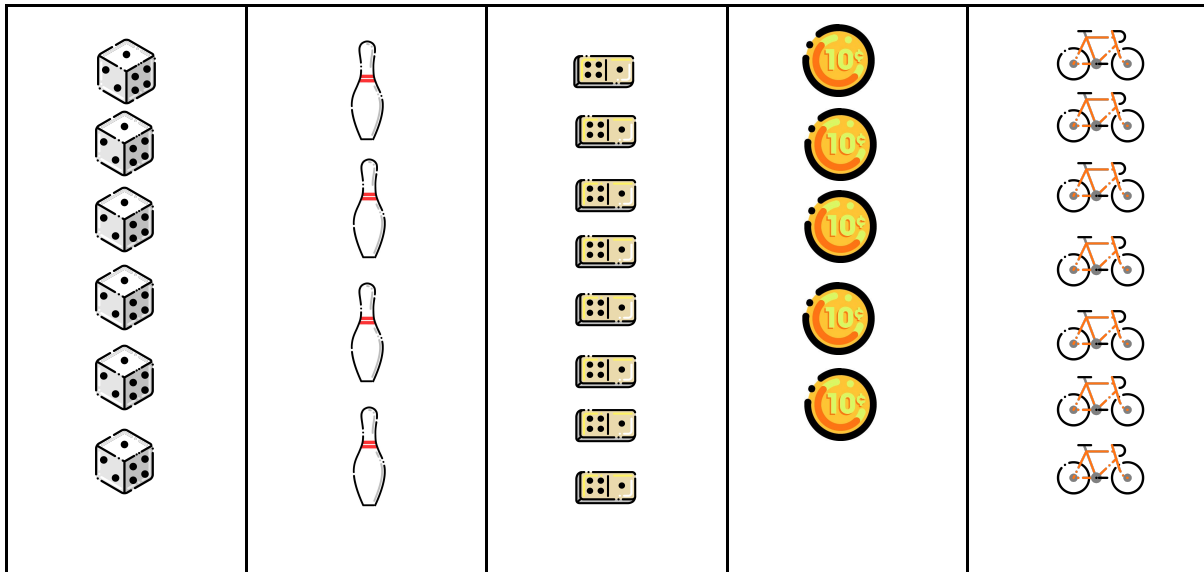



Resolução da atividade complementar - MAT1_01NUM03

1) As coleções abaixo possuem a mesma quantidade? Como você pode descobrir?



Eles poderão contar cada coleção separadamente. Dados: 6; Pinos: 4; Dominó: 8; Moedas: 5; Bicicletas: 7. Concluindo, dessa forma, que a coleção de dominó possui mais. Poderá ser feita oralmente ou através de registro na folha da atividade. Lembrando que é importante que você registre as respostas oralizadas pelos alunos, caso a atividade seja somente oral.

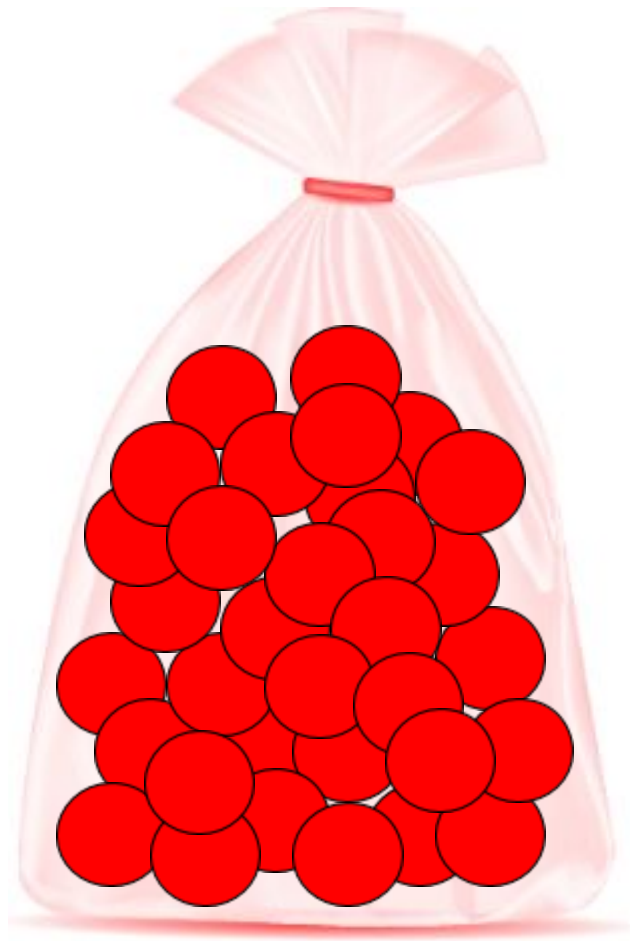
2) Qual é mais fácil de contar? Por quê?



Os alunos deverão apontar que a coleção de lápis coloridos é mais fácil de contar, pelo fato de estarem organizadas, facilitando a contagem. Poderá ser feita oralmente ou através de registro na folha da atividade.

[Desafio]

É possível realizar a contagem de bolinhas existentes dentro desse saco? Me explique como:



Alguma criança poderá dizer que é possível contar se abrirmos o saco, porém, a imagem será impressa. Então, as crianças deverão responder através da imagem. Algumas poderão dizer que é possível contar apenas o que aparece na frente, outras poderão dizer que não, pois não sabemos se tem outras bolinhas atrás dessas que aparecem. Portanto, as duas respostas estão corretas.